

## Задания Технология, 6 класс

**\*Внимание! На все вопросы возможен только один правильный ответ**

### Материаловедение.

**1. В какой части растения находятся волокна хлопка**

- а) в корне
- б) в стебле
- в) в листьях
- г) в семенной коробочке
- д) в цветке

**Ответ:** \_\_\_\_\_

**2. Продолжи пословицу:**


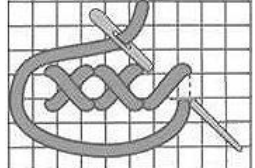
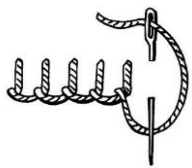

«Каково волокно, таково и \_\_\_\_\_».

**3. Отметьте, к какому свойству ткани относится гигроскопичность.**

- А) к физическим свойствам
- Б) к технологическим свойствам
- В) к механическим свойствам
- Г) все ответы верны

### Рукоделие.

**4. Отметьте, где изображен петельный стежок.**

А)	В)	С)	D)
			

**5. Важным аспектом при изготовлении изделий из лоскута является:**

- а) цветовое решение;
- б) цена ткани;
- в) размер изделия.

**Ответ:** \_\_\_\_\_

**6. Отметьте, какой цвет будет относиться к ахроматическим.**

- А) чёрный
- Б) белый
- В) серый
- Г) все ответы верны

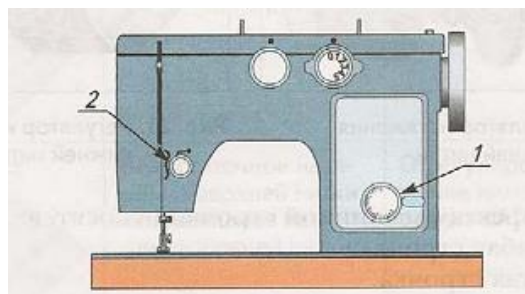
## Машиноведение.

7. К дефектам машинной строчки относится тугая строчка. Отметьте причину возникновения данного дефекта.

- А) недостаточное натяжение обеих нитей
- Б) излишнее натяжение обеих нитей
- В) недостаточное натяжение верхней нити
- Г) излишнее натяжение нижней нити

8. Укажите, какой регулятор на корпусе швейной машины обозначен под №1.

- А) регулятор длины стежка
- Б) регулятор натяжения верхней нити
- В) регулятор натяжения нижней нити
- Г) все ответы верны

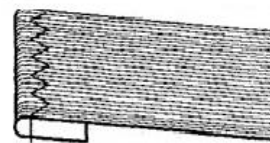


9. Отметьте, какой номер машинной иглы следует использовать для шерстяной костюмной ткани.

- А) 60-70
- Б) 80-90
- В) 100
- Г) 110-120

10. Определите название шва, изображенного на рисунке.

- А) накладной
- Б) шов в подгибку с открытым срезом
- В) обтачной
- Г) шов в подгибку с закрытым срезом



## Конструирование и моделирование.

11. По внешнему виду и чертежу определите покрой данной юбки.

- А) коническая юбка
- Б) клиньевая юбка
- В) прямая юбка
- Г) среди ответов нет верного



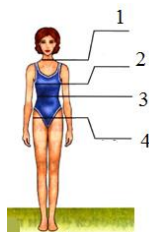
**12. Изменение чертежа выкройки в соответствии с выбранной моделью называется:**

- а) конструированием
- б) моделированием
- в) проектированием

**Ответ:** \_\_\_\_\_

**13. Отметьте, какая конструктивная линия фигуры обозначена на рисунке № 2.**

- А) линия талии
- Б) линия груди
- В) линия бедер
- Г) линия шеи



**14. Масштаб уменьшения:**

- а) 1 : 4
- б) 1 : 1
- в) 4 : 1

**Ответ:** \_\_\_\_\_

**Кулинария.**

**15. Диетические яйца имеют срок хранения:**

- а) не более 7-ми суток
- б) более 7-ми суток
- в) не более 3-х суток

**Ответ:** \_\_\_\_\_

**16. Веществами, выполняющими функцию биологических регуляторов жизненных процессов в организме человека, являются:**

- а) углеводы
- б) белки
- в) жиры
- г) минеральные соли
- д) витамины

**Ответ:** \_\_\_\_\_

**17. Геркулес производят из:**

- а) овса
- б) гречихи
- в) пшеницы
- г) ржи.

**Ответ:** \_\_\_\_\_

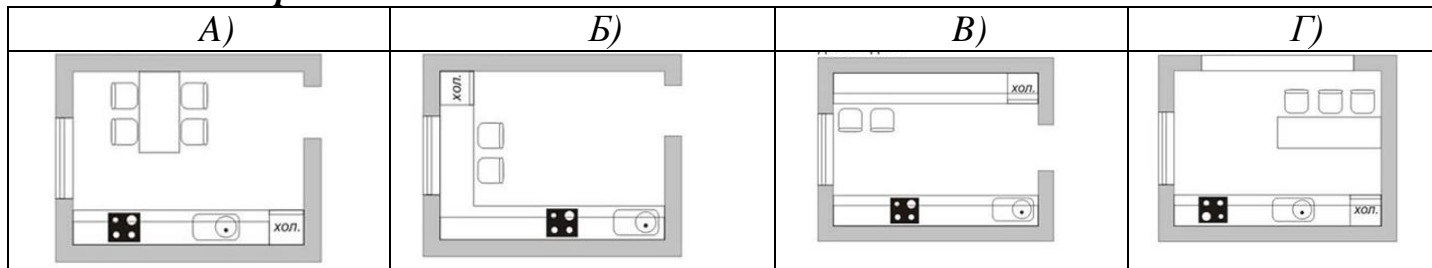
**18. Как вы думаете:**

Почему испорченное яйцо не всплывает на поверхность?

Запишите ответ: \_\_\_\_\_

**Интерьер.**

**19. Рассмотрите типы планировки кухни. Отметьте однорядный тип планировки**



**20. Вспомогательным помещением в доме является:**

- а) гостиная
- б) кухня
- в) спальня
- г) прихожая

**Ответ:** \_\_\_\_\_